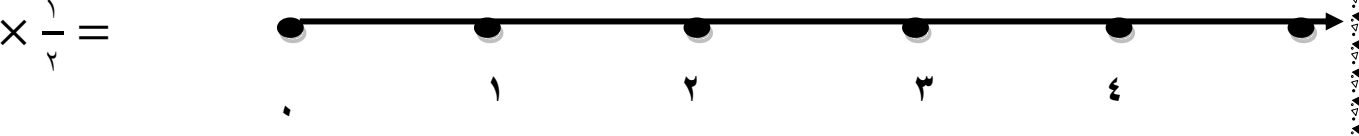
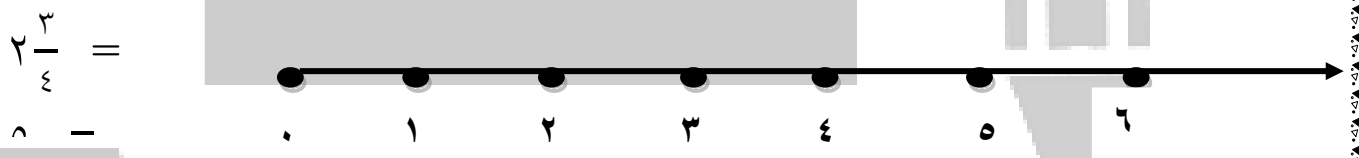
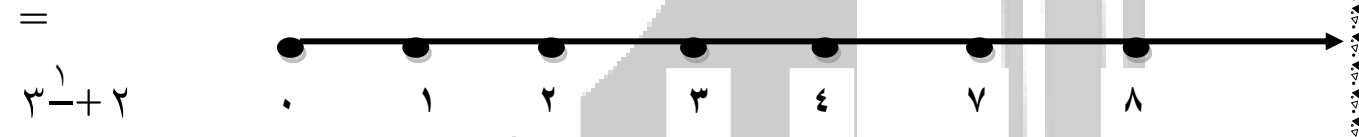
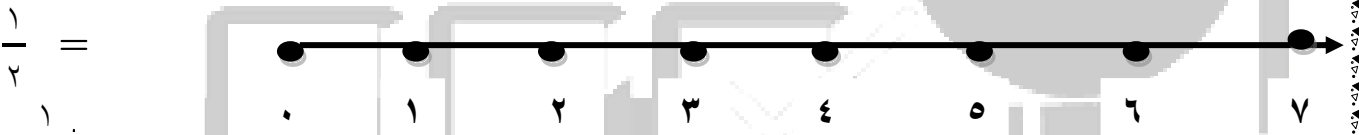
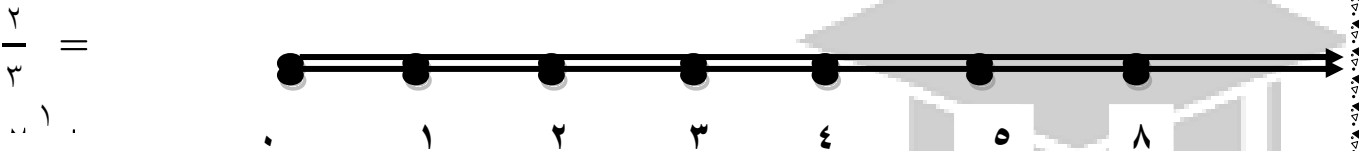


کلاس پنجم آبان ماه ۹۵

نام و نام خانوادگی فعالیت ریاضی (جمع و تفریق عددمخلوط بامحور)



۱- حاصل جمع و تفریق و ضرب های زیر را با محور پیدا کنید.



مسئله های مربوط به جمع تفریق و ضرب کسر

$$3 \times \frac{3}{5} =$$

۱- سیمین دیروز $\frac{1}{5}$ و امروز $\frac{1}{4}$ کتابش را خواند.

الف) او چه کسری از کتابش را خوانده؟

ب) چه کسری از کتابش را نخوانده است؟

۲- کتابی ۱۲۰ صفحه دارد. مهشید دیروز $\frac{2}{5}$ آن را خوانده است.

الف) او چند صفحه از کتاب را خوانده؟

ب) چند صفحه باقی مانده؟

ج) اگر امروز $\frac{5}{9}$ باقی مانده ی کتاب را بخواند چند صفحه خوانده؟

د) چند صفحه باقی می ماند؟

۳- کشاورزی در $\frac{1}{3}$ زمین خود گندم و در $\frac{1}{4}$ دیگر زمین جو کاشته است.

الف) او در چه کسری از زمین خود گندم و جو کاشته است؟

ب) چه کسری از زمین هنوز زیر کشت نرفته است؟

جواب را با کمک شکل پیدا کن.

| | |
|--|--|
| | |
|--|--|

